






Vak	Taak	Wat?	Klaar? Ik vond het...
Nederlands	<u>Begrijpend lezen:</u> Thema 9 – Activiteit 11 Dieren beschermen zichzelf	- TB. p. 50 – 52 (zie extra kopies) - WB. p. 70 - 71	 
Wiskunde	<u>Meetkunde:</u> Blok 6 Les 15 Hoeken, punten en lijnen	- WB. p. 30 - 31	 
Mens en Maatschappij	<u>Mens en maatschappij:</u> Actualiteit: De week van Karrewiet		 

EXTRA INFORMATIE

WISKUNDE:

- Kijk naar de instructiefilmpjes van xnapda.

<https://www.xnapda.be/filmpjes/3de-leerjaar/soorten-hoeken-scherp-recht-stomp>

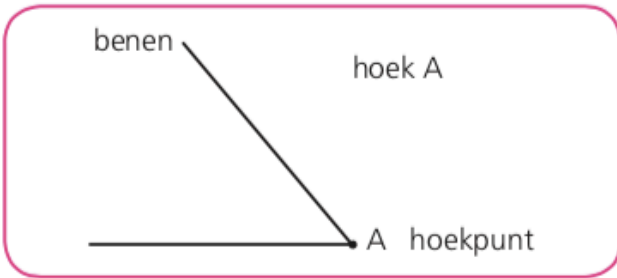


<https://www.xnapda.be/filmpjes/3de-leerjaar/soorten-lijnen-punt-rechte-lijn-gebroken-lijn-gebogen-lijn>

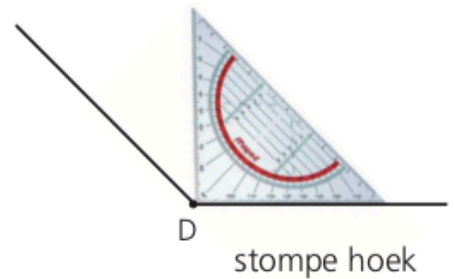
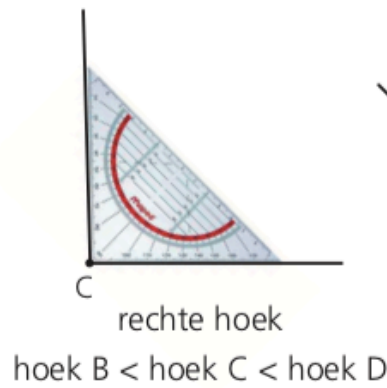
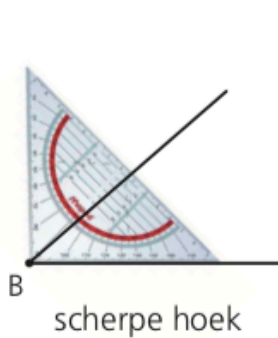


HULPKAARTEN

Hoeken



Gebruik je geodriehoek!



hoek B < hoek C < hoek D

Punten, rechten en lijnen


een punt F



een rechte r



een lijnstuk [AB]



gebogen lijn



gebroken lijn



Dieren beschermen zichzelf

1. Vul de tabel aan waar je kan. Geef telkens een voorbeeld van een dier dat zich op die manier beschermt of verdedigt. Gebruik voorbeelden uit de tekst.

Zo beschermen of verdedigen dieren zich:	Een voorbeeld:
Ze zijn groot en sterk.	<i>olifant, nijlpaard</i>
Ze zijn snel.	<i>konijn, luipaard, struisvogel, kangoeroe</i>
Ze hebben een pantser of stekels.	<i>slak, egel, schildpad</i>
Ze hebben de kleur van hun omgeving.	<i>woestijnvos, giraf, leeuw, zebra, tijger</i>
Ze hebben hun eigen wapen (tanden, klauwen, hoorns).	<i>krokodil, leeuw, neushoorn, olifant, slang, krab, bij, wesp</i>
Ze leven in groep.	<i>zebra, olifant, vlinder, vogels</i>
Ze verspreiden een stinkende geur.	<i>stinkdier</i>
Ze schrikken hun vijand af.	<i>hond</i>
Ze bootsen een dier of een deel van een plant na.	<i>zweefvlieg, wandelende tak, sprinkhaan</i>

3. Los samen de volgende opdracht op:

Op welke manieren beschermt een leeuw zich?
Noem drie manieren. Gebruik je tabel.



- Hij is groot en sterk.
- Hij heeft de kleur van zijn omgeving.
- Hij is gewapend met scherpe klauwen en tanden.

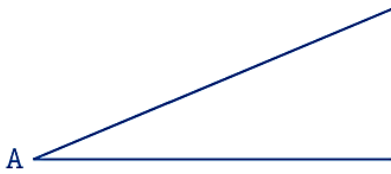
Op welke manieren beschermt een olifant zich? Noem drie manieren.
Gebruik je tabel.



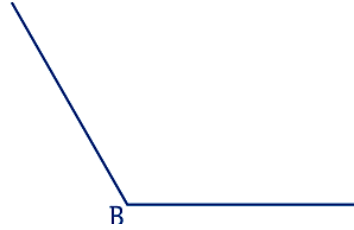
- Hij is groot en sterk.
- Hij is gewapend met slag tanden.
- Hij leeft in groep.

1 Teken en benoem het hoekpunt. (voorbeeldoplossing)


een scherpe hoek



een stompe hoek



een rechte hoek



2 Welke hoek? Vul in: scherpe, rechte of stompe hoek.
Orden de hoeken van klein naar groot.
Nummer van 1 tot en met 5.

Gebruik je geodriehoek!



rechte hoek

3



scherpe hoek

2



stompe hoek

4



stompe hoek

5

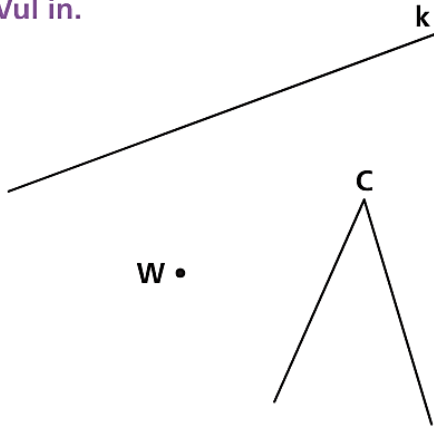


scherpe hoek

1

3

Vul in.

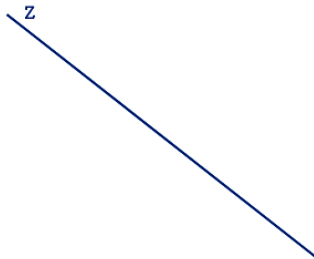


punt	<u>W</u>
rechte	<u>k</u>
lijnstuk	<u>[MN]</u>
hoekpunt	<u>C</u>

4

Teken en benoem.

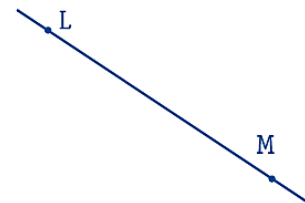
een rechte z



een punt G

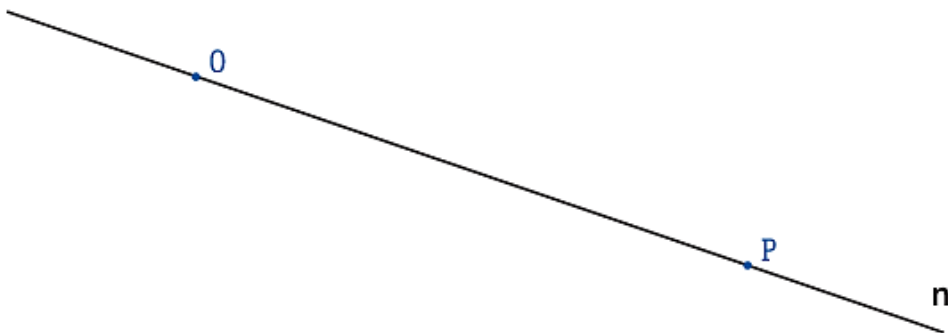
G

een lijnstuk [LM]



5

Teken de punten O en P op de rechte n en vul in.



Dit is het lijnstuk [OP].