

Naam :



VERBETERSLEUTEL

Taak: maandag 25 mei 2020

<https://youtu.be/nta6MKP7FME>

Vak	Taak	DIGI-taak	Klaar? Ik vond het...
Nederlands	<u>Spelling:</u> Ei of geen ei?		 
Wiskunde	<u>Metten:</u> Touwtje, strek je!		 
Mens en Maatschappij	<u>Mens en maatschappij:</u> Actualiteit		 

Hulp nodig?

Volg deze stappen dan eens:



BREIN

Denk zelf nog eens goed na.



BOEK

Kijk nog eens naar het filmpje of kijk nog eens naar de hulppkaart.



BUUR

Roep je mama, papa, broer of zus er eens bij.



BAAS

Stuur een berichtje naar de juf:

- via Whereby : www.whereby.com/juf-stefanie-minions
www.whereby.com/degeluksvogeltjes

- via mail: minions.deleerboom@gmail.com
Degeluksvogeltjes.jufstefanie@gmail.com

Naam :

Nederlands: Ei of geen ei?

1. Wat doe je in deze taak?

- Ik schrijf een aantal diernamen in de juiste categorie: legt wel of geen eieren.

2. Hoe begin je aan deze opdracht?

1. Ik herhaal de spellingsregels.
2. Ik oefen de woorden.
3. Ik luister naar het dictee en vul het in.
4. Ik lees mijn dictee na.
5. Ik verbeter.

HERHALING SPELLINGSMOEILIKHEDEN

HOORWOORDEN: ik schrijf wat ik hoor.

1 Ik luister goed naar het woord.

2 Ik zeg het woord (in gedachten) na.

Ik verdeel een **langer woord** in delen.
Ik onthoud elk deel goed.

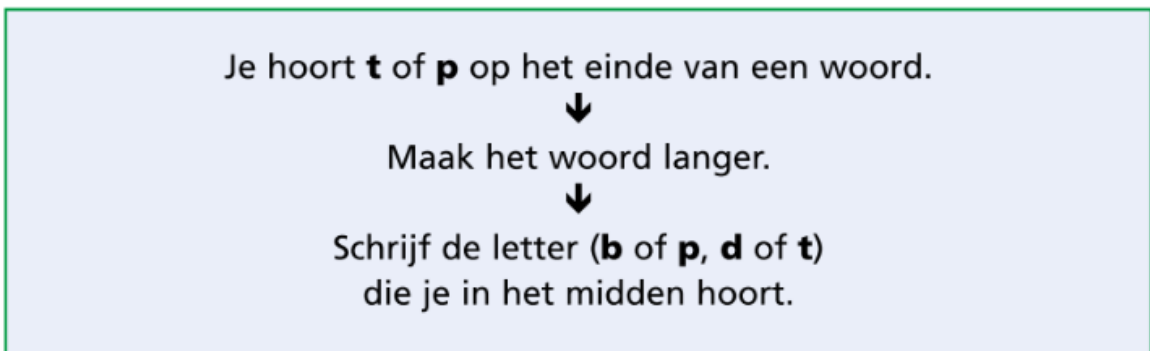
3 Ik schrijf het woord op.

4 Ik kijk na of ik het woord goed geschreven heb.

Naam :

REGELWOORDEN

Verlengingsregel



Opgelet!

Als je het woord niet langer kan maken, volg je de hoorweg.

*Deze woorden moet je onthouden: **altijd**, **geld**, **niemand***

Verenkelen of verdubbelen



Naam :

ONTHOUDWOORDEN

ei of ij?

Schrijf je een woord met **ij** of met **ei**?
Dat moet je **onthouden!**
Je hoort het verschil niet.



ijsje ei

ou of au?

Schrijf je een woord met **ou** of met **au**?
Dat moet je **onthouden!**
Je hoort het verschil niet.



hout auto

Naam :



Uit: Dat komt er nou van...
van Ingrid & Dieter Schubert
Lemiscar, Rotterdam

2. Dictee.

- Luister naar het dictee:
<https://www.youtube.com/watch?v=avN7zDrtxIA&t=>
- Schrijf de dierennamen in de juiste kolom.

Deze dieren leggen _____
of _____ .
Daaruit komen hun jongen.

Deze dieren leggen GEEN
 _____ .
Hun jongen worden geboren.
Het zijn zoogdieren.

<i>kip</i>	<i>tijger</i>
<i>arend</i>	<i>geit</i>
<i>slang</i>	<i>konijn</i>
<i>nauw</i>	<i>muis</i>
<i>kikker</i>	<i>zeehond</i>
<i>schildpad</i>	<i>ijsbeer</i>
<i>goudvis</i>	<i>dolfijn</i>
<i>struisvogel</i>	<i>hert</i>
<i>krokodil</i>	<i>nijlpaard</i>
<i>mug</i>	<i>neushoorn</i>
<i>ijsvogel</i>	<i>ezel</i>

4. Hulp.

Heb je een vraag of een probleem?

Kijk nog eens naar de 4 B's op de eerste pagina van deze dagtaak.

5. Evaluatie.

Verbeter morgen je dictee met de correctiesleutel.

Heb je een woordje fout ? Schrijf dat woordje nog een keer in de tweede kolom.

Naam :

Wiskunde: Touwtje, strek je!

1. Wat leer je in deze taak?

Ik kan de omtrek van verschillende figuren meten en berekenen.

Ik kan de omtrek van een vierkant en een rechthoek berekenen.



2. Hier vind je extra uitleg.

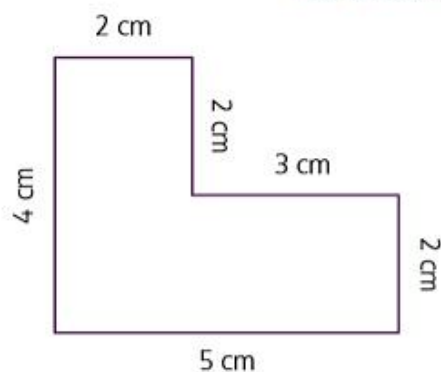
Lengte: omtrek



Kijk zeker ook op het volgende blad!

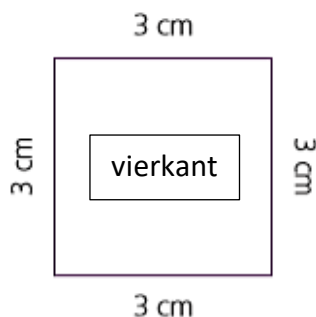


Hoe bereken je de omtrek van een figuur?



Meet alle zijden en tel op.

$$2 \text{ cm} + 2 \text{ cm} + 3 \text{ cm} + 2 \text{ cm} + 5 \text{ cm} + 4 \text{ cm} = 18 \text{ cm}$$

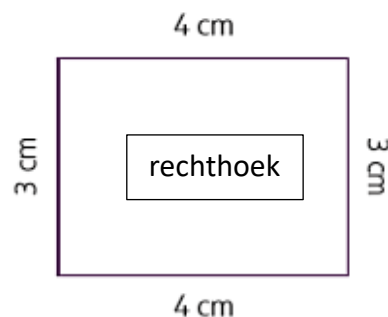


De omtrek =

$$3 \text{ cm} + 3 \text{ cm} + 3 \text{ cm} + 3 \text{ cm} = 12 \text{ cm}$$

of

$$\text{zijde} \times 4 = 3 \text{ cm} \times 4 = 12 \text{ cm}$$



De omtrek =

$$4 \text{ cm} + 3 \text{ cm} + 4 \text{ cm} + 3 \text{ cm} = 14 \text{ cm}$$

of

$$\begin{aligned} (\text{lengte} + \text{breedte}) \times 2 &= 2 \times 4 \text{ cm} + 2 \times 3 \text{ cm} \\ &= 8 \text{ cm} + 6 \text{ cm} = 14 \text{ cm} \end{aligned}$$

Naam :

Niet helemaal begrepen?

Omtrek vierkant

Scan de QR-code :



Of ga naar

<https://www.youtube.com/watch?v=0XzhAt9kPIU>

Omtrek rechthoek

Scan de QR-code :

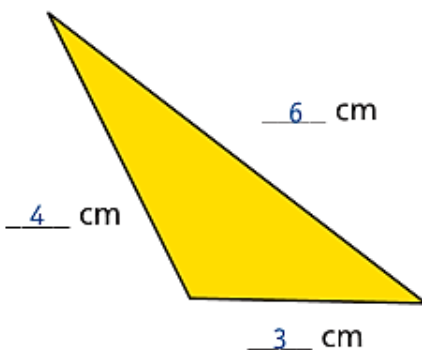


Of ga naar

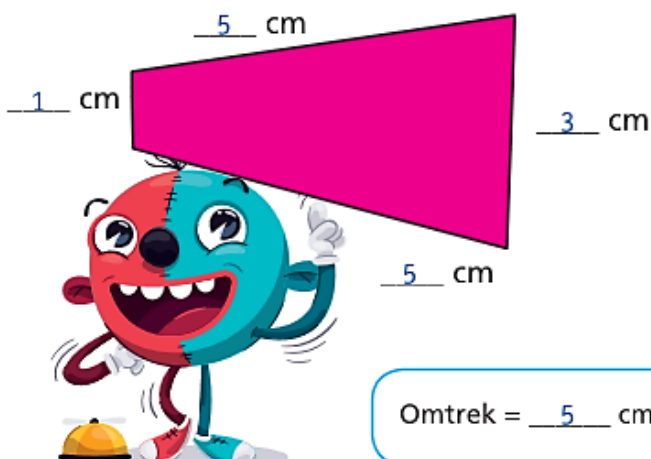
<https://www.youtube.com/watch?v=tpOi7WQqp9w>

3. Maak nu de volgende oefeningen.

1. Meet elke zijde en vul in. Bereken de omtrek.

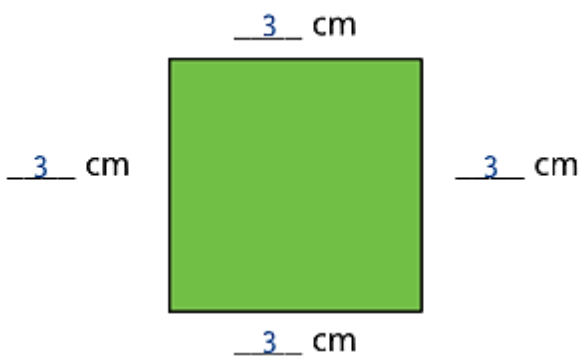


$$\text{Omtrek} = \underline{3} \text{ cm} + \underline{4} \text{ cm} + \underline{6} \text{ cm} = \underline{13} \text{ cm}$$



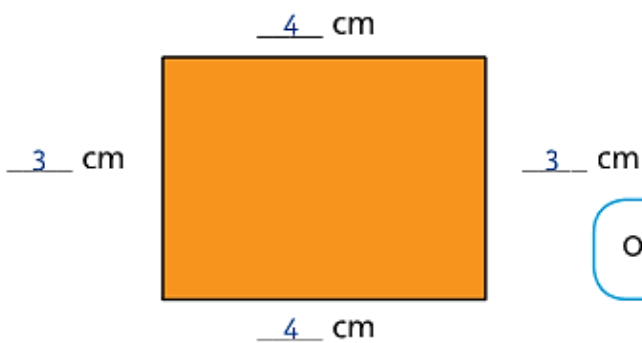
$$\text{Omtrek} = \underline{5} \text{ cm} + \underline{1} \text{ cm} + \underline{5} \text{ cm} + \underline{3} \text{ cm} = \underline{14} \text{ cm}$$

Naam :



$$\text{Omtrek} = 3 \text{ cm} + 3 \text{ cm} + 3 \text{ cm} + 3 \text{ cm} = 12 \text{ cm}$$

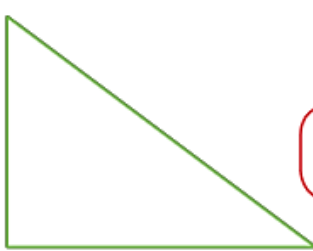
of $4 \times 3 \text{ cm} = 12 \text{ cm}$



$$\text{Omtrek} = 4 \text{ cm} + 3 \text{ cm} + 4 \text{ cm} + 3 \text{ cm} = 14 \text{ cm}$$

of $2 \times 4 \text{ cm} + 2 \times 3 \text{ cm} = 8 \text{ cm} + 6 \text{ cm} = 14 \text{ cm}$

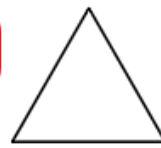
2. Meet elke zijde. Schrijf de omtrek onder elke figuur.
Kleur de figuren met dezelfde omtrek.



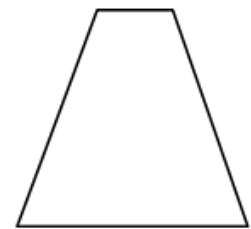
Omtrek: 12 cm



Omtrek: 4 cm



Omtrek: 6 cm



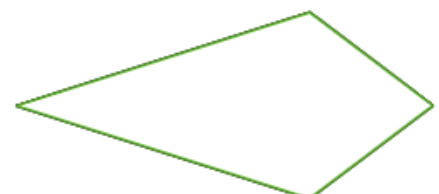
Omtrek: 10 cm



Omtrek: 12 cm



Omtrek: 14 cm



Omtrek: 12 cm

Naam :

4. Hulp.

Heb je een vraag of een probleem?

Kijk nog eens naar de 4 B's op de eerste pagina van deze dagtaak.

5. Evaluatie.

Neem oefening 1 op pagina 8 en 9 erbij.

Voer je antwoorden online in.

Scan de QR-Code:

<p style="text-align: center;">L3L</p>  <p style="text-align: center;">https://forms.gle/TSbV7xMSz3vryNah7</p>	<p style="text-align: center;">L3R</p>  <p style="text-align: center;">https://forms.gle/hFfJIT8DbhQoJA8VA</p>
--	--

Of controleer morgen met de correctiesleutel.

Naam :

Mens en maatschappij: actualiteit

1. Wat doe je in deze taak?

- Ik toon interesse in de actualiteit door goed te luisteren en nadien enkele vragen op te lossen.

2. Hier vind je extra uitleg.

Scan onderstaande QR-code en kijk naar De Week van Karrewiet.

Scan de QR-code :



Of ga naar de volgende website:

<https://www.ketnet.be/kijken/karrewiet-23-mei-2020>

3. Oefening

Speel de actuaquiz op Kahoot.

L3R	L3L
 https://kahoot.it/challenge/07681592?challenge-id=4d204199-6984-498e-b5e3-121b7fd86006_1590312570888	 https://kahoot.it/challenge/0806854?challenge-id=4d204199-6984-498e-b5e3-121b7fd86006_1590312661383