







Naam :



Taak: donderdag 4 juni 2020

<https://youtu.be/QpxrHL6PXOw>

Vak	Taak	DIGI-taak	Klaar? Ik vond het...
Nederlands	<u>Luisteren:</u> Natuurhulpcentrum		 
Wiskunde	<u>Metten:</u> De omtrek		 
Wetenschappen en techniek	<u>Natuur:</u> Reptielen		 

Hulp nodig?

Volg deze stappen dan eens:



BREIN

Denk zelf nog eens goed na.



BOEK

Kijk nog eens naar het filmpje of kijk nog eens naar de hulpkartaat.



BUUR

Roep je mama, papa, broer of zus er eens bij.



BAAS

Stuur een berichtje naar de juf:

- via Whereby : www.whereby.com/juf-stefanie-minions
www.whereby.com/degeluksvogeltjes

- via mail: minions.deleerboom@gmail.com
Degeluksvogeltjes.jufstefanie@gmail.com

Naam :

Nederlands: Natuurhulpcentrum

1. Wat doe je in deze taak?

- Ik luister naar een interview met een medewerker van een natuurhulpcentrum en beantwoord een aantal vragen bij het interview.

2. Hoe begin je aan deze opdracht?

1. Ik luister naar het interview.
2. Ik beantwoord de vragen bij elk deel.
3. Ik controleer mijn antwoorden.

3. Maak nu de volgende oefeningen.

- Luister naar het interview en beantwoord de vragen.

Luisterfragment:

Ga naar de volgende website.

Deel 1:

<https://youtu.be/uG1SkWaQXJo>



Deel 2:

<https://youtu.be/uftMoZWnr3o>



Deel 3:

<https://youtu.be/nAdtQXRYbBA>



Vragen:

Scan de QR-Code:

L3L



<https://forms.gle/s48K3gkMSBFMVcN99>

L3R



<https://forms.gle/6vRNnQAKTgyZDhrV8>

Naam :

Vragen voor de kinderen zonder computer:

DEEL 1

Duid het juiste antwoord aan.

Welke taak heeft Bart?

- Hij verzorgt de zieke of gewonde dieren als ze worden binnengebracht.
- Hij zorgt voor de voeding van de vogels.
- Hij verzorgt de dieren die bijna genezen zijn.
- Hij zorgt ervoor dat de kooien regelmatig geïmagineerd worden.

Waar of niet waar? Zet een kruisje in de juiste kolom.

	waar	niet waar
Het Natuurhulpcentrum in Opglabbeek is het grootste dierenziekenhuis in België.		
In het Natuurhulpcentrum in Opglabbeek worden binnenlandse en buitenlandse wilde dieren verzorgd.		
De dieren in het dierenziekenhuis worden vaak geknuffeld omdat ze dan sneller genezen.		

DEEL 2

Waar of niet waar? Zet een kruisje in de juiste kolom.

	waar	niet waar
Sommige dieren hebben om het uur voedsel nodig.		
Bezoekers zijn altijd welkom.		

Naam :

Een dier wordt in het dierenziekenhuis binnengebracht.

Wat gebeurt er dan?

Zet de verschillende stappen in de juiste volgorde.

Schrijf bij elke stap een nummer.

Gebruik cijfers van 1 tot 3. Zet 1 bij de eerste stap.

- De wonden van het dier worden verzorgd.
- Het dier zit in een grote kooi.
- Het dier zit in een kleine kooi.

DEEL 3

Waar of niet waar? Zet een kruisje in de juiste kolom.

	waar	niet waar
De tijgerpython (grote slang) in het Natuurhulpcentrum is ziek.		
Als vrijwilliger in het Natuurhulpcentrum kan je elke dag mee om dieren te vangen.		
De belangrijkste taken van een vrijwilliger zijn dieren eten geven en kooien poetsen.		

4. Hulp.

Heb je een vraag of een probleem?

Kijk nog eens naar de 4 B's op de eerste pagina van deze dagtaak.

5. Evaluatie.

Controleer morgen je oefeningen met de correctiesleutel.

Naam :

Wiskunde: De omtrek

1. Wat leer je in deze taak?

Ik kan de omtrek van verschillende figuren meten en berekenen.

Ik kan de omtrek van een vierkant en een rechthoek berekenen.



2. Hier vind je extra uitleg.

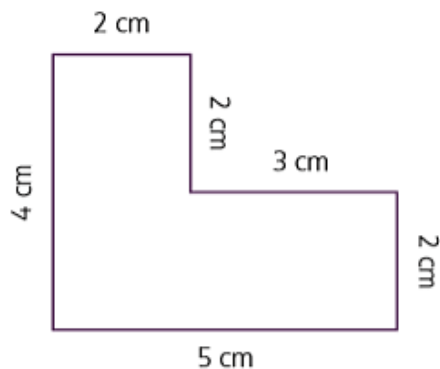
Lengte: omtrek



Kijk zeker ook op het volgende blad!

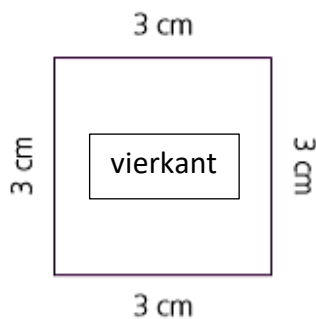


Hoe bereken je de omtrek van een figuur?



Meet alle zijden en tel op.

$$2 \text{ cm} + 2 \text{ cm} + 3 \text{ cm} + 2 \text{ cm} + 5 \text{ cm} + 4 \text{ cm} = 18 \text{ cm}$$

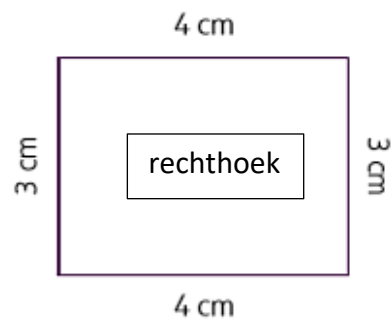


De omtrek =

$$3 \text{ cm} + 3 \text{ cm} + 3 \text{ cm} + 3 \text{ cm} = 12 \text{ cm}$$

of

$$\text{zijde} \times 4 = 3 \text{ cm} \times 4 = 12 \text{ cm}$$



De omtrek =

$$4 \text{ cm} + 3 \text{ cm} + 4 \text{ cm} + 3 \text{ cm} = 14 \text{ cm}$$

of

$$\begin{aligned} (\text{lengte} + \text{breedte}) \times 2 &= 2 \times 4 \text{ cm} + 2 \times 3 \text{ cm} \\ &= 8 \text{ cm} + 6 \text{ cm} = 14 \text{ cm} \end{aligned}$$

Naam :

Niet helemaal begrepen?

Omtrek vierkant

Scan de QR-code :



Of ga naar

<https://www.youtube.com/watch?v=0XzhAt9kPIU>

Omtrek rechthoek

Scan de QR-code :

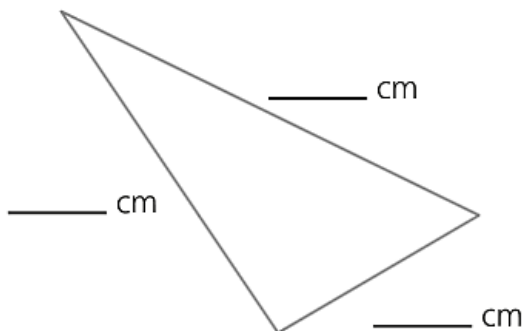


Of ga naar

<https://www.youtube.com/watch?v=tpOi7WQqp9w>

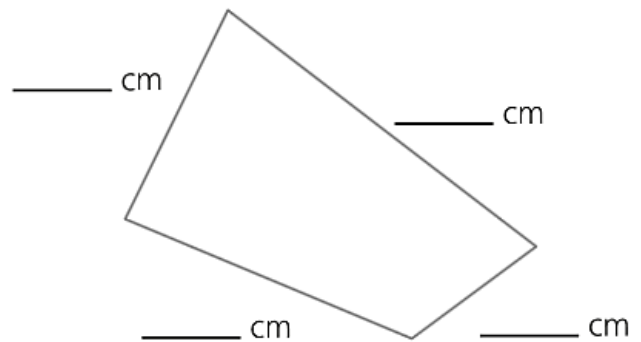
3. Maak nu de volgende oefeningen.

Meet elke zijde (rond af tot op cm) en vul in. Bereken de omtrek.



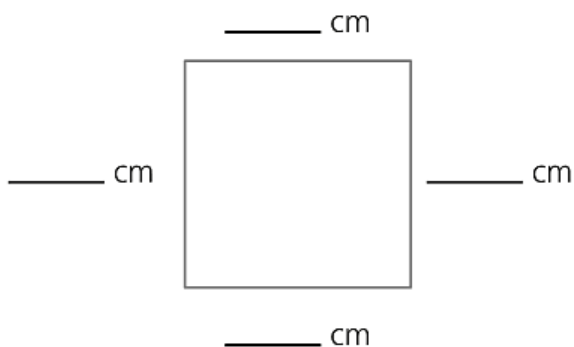
Bewerking: _____

De omtrek is _____ cm.



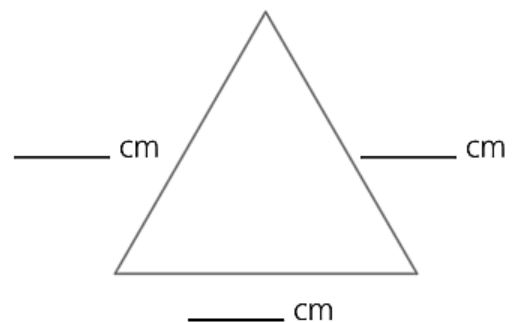
Bewerking: _____

De omtrek is _____ cm.



Bewerking: _____

De omtrek is _____ cm.



Bewerking: _____

De omtrek is _____ cm.

Naam :

4. Hulp.

Heb je een vraag of een probleem?




Kijk nog eens naar de 4 B's op de eerste pagina van deze dagtaak.

5. Evaluatie.

Neem de oefening op pagina 6 erbij.

Voer je antwoorden online in.

Scan de QR-Code:

 <p>L3L</p>  <p>https://forms.gle/Lr6MGtDkePsbm8si9</p>	<p>L3R</p>  <p>https://forms.gle/xUzs2FfSXvm3Uega7</p>
---	--

Of controleer morgen met de correctiesleutel.

Naam :

Wetenschappen en techniek: Reptielen

1. Wat doe je in deze taak?

- Ik benoem enkele kenmerken van reptielen.
- Ik geef minstens 2 voorbeelden van reptielen.

2. Hier vind je extra uitleg.

Scan onderstaande QR-code en kijk naar het filmpje.





Of ga naar volgende website: <https://youtu.be/zKIPA5NlcSU>

3. Oefening

Speel de quiz op Kahoot.

Kahoot!

L3R	L3L
 https://kahoot.it/challenge/04583935?challenge-id=a9e1897d-46fc-4535-b0cf-17099d4eede6_1590929679021 Kahoot code: 04583935	 https://kahoot.it/challenge/05928023?challenge-id=a9e1897d-46fc-4535-b0cf-17099d4eede6_1590929770314 Kahoot code: 05928023

4. Hulp

Heb je een vraag of een probleem?

Kijk nog eens naar de 4 B's op de eerste pagina van deze dagtaak.