

Naam :



Dagtaak: woensdag 06/05/'20

<https://www.youtube.com/watch?v=SNFjUbBCKvg>

| Vak | Taak | Klaar? Ik vond het... |
|---------------------------|---|---|
| Nederlands | <u>Luisteren</u> Een verhaal over kranten |   |
| Wiskunde | <u>Meetkunde:</u> De omtrek |   |
| Wetenschappen en Techniek | <u>W & T :</u> Bloemen en planten in de lente – deel 2 |   |
| Lichamelijke opvoeding | Memory |   |

Hulp nodig?

Volg deze stappen dan eens:



BREIN

Denk zelf nog eens goed na.



BOEK

Kijk nog eens naar het filmpje of kijk nog eens naar de hulpkaart.



BUUR

Roep je mama, papa, broer of zus er eens bij.



BAAS

Stuur een berichtje naar de juf:

- via Whereby : www.whereby.com/juf-stefanie-minions
www.whereby.com/degeluksvogeltjes

- via mail: minions.deleerboom@gmail.com
degeluksvogeltjes.jufstefanie@gmail.com

Nederlands : Een verhaal over kranten (luisteren)

1. Wat leer je in deze taak?

- Ik geniet van een voorgelezen verhaal.

2. Wat moet je doen?



1. Ik luister naar het verhaal:

<https://www.youtube.com/watch?v=MZTMRs63Xow>



2. Los de Kahoot-quiz op.

3. Oefeningen

| L3R | L3L |
|--|--|
|  https://kahoot.it/challenge/04660061?challenge-id=a9e1897d-46fc-4535-b0cf-17099d4eede6_1588235170446 Kahoot code : 04660061 |  https://kahoot.it/challenge/05224971?challenge-id=a9e1897d-46fc-4535-b0cf-17099d4eede6_1588235301290 Kahoot code : 05224971 |

4. Hulp?

Heb je een vraag of een probleem?

Kijk nog eens naar de 4 B's op de eerste pagina van deze dagtaak.

Wiskunde: De omtrek (meetkunde)

1. Wat leer je in deze taak?

- Ik benoem de rand van een figuur als omtrek en meet deze omtrek.

2. Hier vind je extra uitleg.



- Kijk naar het instructiefilmpje:
<https://www.youtube.com/watch?v=b4rhmUU2ZgI>
- Bekijk de hulpkaart aandachtig.



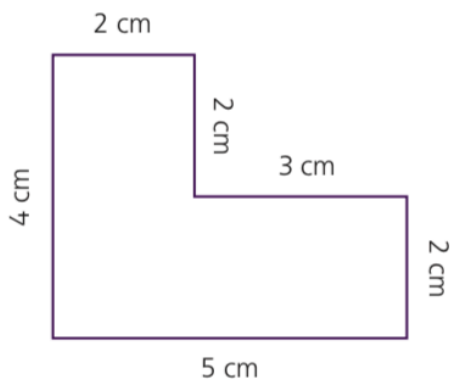
Lengte: omtrek



Kijk zeker ook op het volgende blad!



Hoe bereken je de omtrek van een figuur?




Meet alle zijden en tel op.

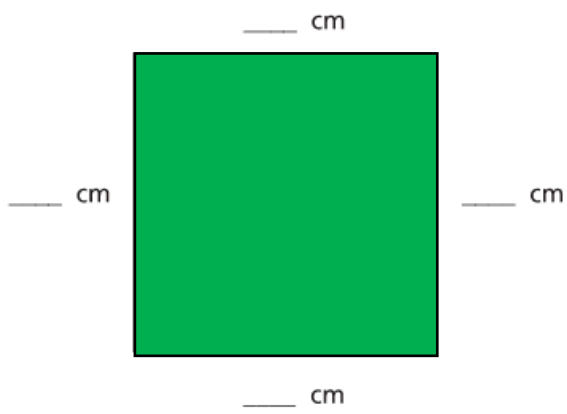
$$2 \text{ cm} + 2 \text{ cm} + 3 \text{ cm} + 2 \text{ cm} + 5 \text{ cm} + 4 \text{ cm} = 18 \text{ cm}$$

3. Oefeningen

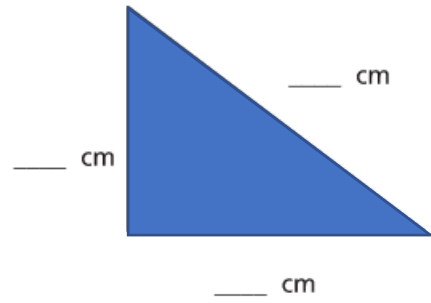
① Overtrek de omtrek met een andere kleur. Gebruik een lat als het nodig is.



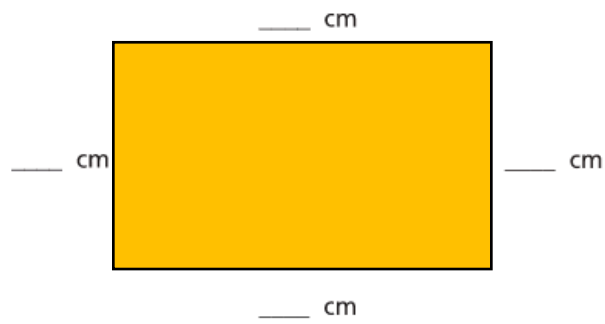
② Overtrek en bereken de omtrek.



De omtrek is _____ cm.



De omtrek is _____ cm.



De omtrek is _____ cm.



4. Hulp

Heb je een vraag of een probleem?

Kijk nog eens naar de 4 B's op de eerste pagina van deze dagtaak.

5. Evaluatie

- Neem de antwoorden van oefening 2 erbij.
- Geef je antwoorden digitaal in.

| L3R | L3L |
|--|--|
|  https://forms.gle/3GpToQHWCT494kAU9 |  https://forms.gle/6MLm8rxpwDcTAtUA6 |

Wetenschappen en techniek: Bloemen en planten in de lente

1. Wat doe je in deze taak?

- Ik herken en benoem enkele voorjaarsbloemen.

2. Hier vind je extra uitleg.

Bekijk het volgende filmpje:

<https://www.youtube.com/watch?v=dZgmREaL2Xo>



3. Oefening

① Vul in.

DE NARCIS



Welke kleur heeft de bloem?

| | | | |
|------|-------|------|-------|
| rood | groen | geel | blauw |
|------|-------|------|-------|

Kleur de bloem in de juiste kleur !

Wat is een andere naam voor de narcis?

DE HYACINT

Welke kleur kunnen de bloempjes van de hyacint NIET hebben?

Doorstreep die kleur.

rood | geel | zwart | blauw

Hoeveel bloemen heeft de Hyacint?

| | |
|----------------------------------|-------------------------------------|
| <input type="checkbox"/> juist 1 | <input type="checkbox"/> meer dan 1 |
|----------------------------------|-------------------------------------|



DE KROKUS



De stengel van de krokus is:

| | |
|------------------------------------|------------------------------------|
| <input type="checkbox"/> heel lang | <input type="checkbox"/> heel kort |
|------------------------------------|------------------------------------|

De bloem heeft een _____
of een _____ of een
_____ kleur.

DE TULP



Hoeveel bloemblaadjes zie je bij 1 tulp?






HET SNEEUWKLOKJE

Het bloempje heeft de vorm van een



② Schrijf onder elke foto de naam van de bloem.

Kies uit: hyacint – tulp – krokus – sneeuwklokje - narcis

| | | | | |
|---|--|--|---|--|
|  |  |  |  |  |
| ----- ----- | ----- ----- | ----- ----- | ----- ----- | ----- ----- |

4. Hulp

Heb je een vraag of een probleem?

Kijk nog eens naar de 4 B's op de eerste pagina van deze dagtaak.

5. Evaluatie

- Verbeter morgen je oefeningen met de correctiesleutel.

Lichamelijke opvoeding:

1. Wat doe je in deze taak?

- Ik zet zelfstandig materiaal in om aan sport te doen.
- Ik kan zo snel mogelijk lopen over een bepaalde afstand.

2. Uitleg

1. Knip alle kaartjes van het memory spel uit.
2. Kies een startplaats (bijvoorbeeld: je kamer).
3. Leg de memory-kaartjes zo ver mogelijk van je startplaats (bijvoorbeeld in de keuken).
4. Loop naar de kaartjes en draai er twee om.
 - ➔ Heb je twee identieke kaartjes? Voer de opdracht uit!
 - ➔ Heb je twee verschillende kaartjes? Loop terug naar je startplaats.
5. Herhaal tot je de 10 paren hebt gevonden.

Wat heb ik nodig voor deze les?

- Memory-kaarten
 - Materiaal om de opdrachten uit te voeren.
 - een bal
 - 2 washandjes
 - een krant
 - een stuk fruit
 - kledij
- ➔ Heb je iets niet in huis? Geen probleem. Zoek iets anders dat je wel hebt om de opdracht uit te voeren.

3. Het spel

1. Drippel met een bal over het hele huis zonder tegen iets aan te botsen.
2. Doe washandjes om je voeten en schaats door het hele huis.
3. Leer een dans of doe een workout via Youtube of andere media.
Dansje: <https://www.youtube.com/watch?v=BJa8RSbZ0lY>
Workout: <https://www.youtube.com/watch?v=CHfYtHNcQSA>
4. Maak in elke kamer van het huis een voor- en achterwaartse koprol.
5. Rol een krant op en maak een propje papier. Kan jij het propje 15x in de lucht slaan zonder dat hij op de grond valt?
6. Eet een lekker stuk fruit.
7. Speel een wedstrijd van je favoriete sport met je broer, zus, mama of papa.
8. Trek zoveel mogelijk van je kleren over elkaar aan (en ruim alles weer netjes op!)
9. Spring het hele huis af op één voet (je mag 3x wisselen van voet)
10. Ga 3x rond de tafel. 1x als kikker, 1 keer als aapje en 1x als hond.

4. Klaar?

Hopelijk nam mama / papa / broer of zus enkele foto's.
Stuur deze zeker door naar je juf. Zij zijn altijd blij om jou te zien!

HET MEMORY SPEL

