


BASISSCHOOL

De Leerboom

Dinsdag 16 juni 2020

Vak	Taak	Wat?	Klaar? Ik vond het...
Nederlands	<u>Luisteren + Taal:</u> Thema 9 – Activiteit 14 De leeuw en de muis	- TB. p. 53 – 54 (zie extra kopies) - WB. p. 72	 
Wiskunde	<u>Bewerkingen:</u> Blok 6 Les 16 Delen met en zonder restjes	- WB. p. 32 - 33	 
Muzische vorming	<u>Beeld:</u> De salamander		 

EXTRA INFORMATIE

NEDERLANDS:

- Luister naar het verhaal:
ZIE WEBSITE DERDE LEERJAAR → www.deleerboomdrie.jouwweb.be

WISKUNDE:

- Kijk naar het instructiefilmpje:

De leeuw en de muis

Vul de passende dierennaam in.

Kies uit: beer, ezel, hond, kreeft, mol, muis, raaf, slak, varken, vis.

				
	a Zo zwart als een _____	<i>raaf</i>	_____	
	b Zo vies als een _____	<i>varken</i>	_____	
	c Zo sterk als een _____	<i>beer</i>	_____	
	d Zo stil als een _____	<i>muis</i>	_____	
	e Zo dom als een _____	<i>ezel</i>	_____	
	f Zo ziek als een _____	<i>hond</i>	_____	
	g Zo gezond als een _____	<i>vis</i>	_____	
	h Zo traag als een _____	<i>slak</i>	_____	
	i Zo blind als een _____	<i>mol</i>	_____	
	j Zo rood als een _____	<i>kreeft</i>	_____	

1

Eierdozen vullen. Vul de tabel in.



6 eieren in een doosje








Ik heb ... eieren	bewerking	tafel van 	quotiënt	rest 
34	34 : 6	6	5	4
50	50 : 6	6	8	2
22	22 : 6	6	3	4

2

Snoepjes uitdelen. Vul de tabel in.



Ik heb ... snoepjes	Ik verdeel onder ... kinderen	bewerking	tafel van 	quotiënt	rest 
37		<u>37 : 5</u>	5	7	2
26		<u>26 : 3</u>	3	8	2
60		<u>60 : 7</u>	7	8	4

3

Reken uit. Denk aan de tafels!

$$250 : 5 = 50$$

$$490 : 7 = 70$$

$$120 : 2 = 60$$

$$160 : 4 = 40$$

$$640 : 8 = 80$$

$$270 : 9 = 30$$

$$120 : 6 = 20$$

$$900 : 10 = 90$$

$$450 : 9 = 50$$

$$1000 : 5 = 200$$

240 : 4 = 60
want
24 : 4 = 6



4

Bereken het quotiënt.



$65 : 5 = 13$	$52 : 4 = 13$	$336 : 3 = 112$	$434 : 2 = 217$
$147 : 7 = 21$	$999 : 3 = 333$	$84 : 7 = 12$	$84 : 6 = 14$

5

4 kinderen per auto. Hoeveel auto's nodig? Reken uit.

132 kinderen

Bewerking: $132 : 4 = 33$

$$\begin{array}{r} 120 \quad 12 \\ \underline{4} \\ 132 \\ \\ 33 \end{array}$$
 Er zijn 33 auto's nodig.

6

6 kinderen per auto. Hoeveel auto's nodig? Reken uit.

126 kinderen

Bewerking: $126 : 6 = 21$

$$\begin{array}{r} 120 \quad 6 \\ \underline{6} \\ 126 \\ \\ 21 \end{array}$$
 Er zijn 21 auto's nodig.

7

In elke bus zitten evenveel kinderen. Hoeveel kinderen in elke bus? Reken uit.

280 kinderen

Bewerking: $280 : 5 = 56$

$$\begin{array}{r} 250 \quad 30 \\ \underline{5} \\ 280 \\ \\ 56 \end{array}$$
 In elke bus zitten 56 kinderen.

165 kinderen

Bewerking: $165 : 3 = 55$

$$\begin{array}{r} 150 \quad 15 \\ \underline{3} \\ 165 \\ \\ 55 \end{array}$$
 In elke bus zitten 55 kinderen.