

Naam :



Dagtaak: maandag 04/05/'20

<https://www.youtube.com/watch?v=Lr7fcxSAzo>

Vak	Taak	Klaar? Ik vond het...
Nederlands	<u>Begrijpend lezen</u> Reclame	 
Wiskunde	<u>Bewerkingen:</u> Cijferen met nullen	 
M & M	<u>M & M :</u> Actualiteit: De Week van Karrewiet	 

Hulp nodig?

Volg deze stappen dan eens:



BREIN

Denk zelf nog eens goed na.



BOEK

Kijk nog eens naar het filmpje of kijk nog eens naar de hulppkaart.



BUUR

Roep je mama, papa, broer of zus er eens bij.



BAAS

Stuur een berichtje naar de juf:

- via Whereby : www.whereby.com/juf-stefanie-minions
www.whereby.com/degeluksvogeltjes

- via mail: minions.deleerboom@gmail.com
Degeluksvogeltjes.jufstefanie@gmail.com

Nederlands : Reclame in kranten (Begrijpend lezen)

1. Wat leer je in deze taak?

- Ik lees een aantal reclameboodschappen en beantwoord bij elke reclame boodschap een aantal vragen.

2. Wat moet je doen?

1. Ik bekijk het filmpje: <https://www.youtube.com/watch?v=1nXHprgPVAc>
2. Maak de oefeningen.



3. Oefeningen

- Lees de reclameboodschappen.
- Beantwoord een aantal vragen bij elke reclameboodschap.

① Lees de volgende reclameboodschappen.



Ben je gek op hippe kleren en nieuwe trends?
Koop dan nu het nieuwe **Cool Kids** T-shirt voor
slechts 10 euro.

Je kan kiezen uit
maar liefst 10 kleuren!

Be kid!

Be cool!





Welkom in het aards paradijs!
Met **Odorabile** is het puur genieten.

*Zo licht als ochtenddauw.
De frisse geur van het geluk.*



② Beantwoord de vragen via Kahoot.

L3R	L3L
 https://kahoot.it/challenge/06408826?challenge-id=a9e1897d-46fc-4535-b0cf-17099d4eede6_1587974640837 Kahoot code: 06408826	 https://kahoot.it/challenge/09280821?challenge-id=a9e1897d-46fc-4535-b0cf-17099d4eede6_1587974826188 Kahoot code: 09280821

③ Beantwoord de volgende vragen.

Eigen mening



Zou het kloppen wat hier beloofd wordt?
ja / neen

Zou jij dit product zelf kopen?
ja / neen

Geef de reclame een cijfer van 1 (niet goed) tot 6 (super).

① ② ③ ④ ⑤ ⑥



Zou het kloppen wat hier beloofd wordt?
ja / neen

Zou jij dit product zelf kopen?
ja / neen

Geef de reclame een cijfer van 1 (niet goed) tot 6 (super).

① ② ③ ④ ⑤ ⑥



Zou het kloppen wat hier beloofd wordt?
ja / neen

Zou jij dit product zelf kopen?
ja / neen

Geef de reclame een cijfer van 1 (niet goed)
tot 6 (super).

- ① ② ③ ④ ⑤ ⑥

4. Hulp?

Heb je een vraag of een probleem?

Kijk nog eens naar de 4 B's op de eerste pagina van deze dagtaak.

Wiskunde: Cijferen met nullen (bewerkingen)

1. Wat leer je in deze taak?

- Ik trek cijferend af met 2 keer lenen, waarbij het tiental 0 is.

2. Hier vind je extra uitleg.

- Kijk naar het instructiefilmpje:
https://www.youtube.com/watch?v=nhl_pojQZ6E



- Bekijk de hulpkaart op de volgende pagina aandachtig.

Cijferen: aftrekken met nullen

$$803 - 576 =$$

H	T	E
●●		●●
●●		●
●●		
●●		

H	T	E
8	0	3
5	7	6
<hr/>		

H	T	E
●●	●●	●●
●●	●●	●
●●	●●	
●	●●	

H	T	E
7	10	
8	0	3
5	7	6
<hr/>		

H	T	E
●●	●●	●●
●●	●●	●●
●●	●●	●●
●	●●	●

H	T	E
7	9	
	10	13
8	0	3
5	7	6
<hr/>		
		7

●●
●●
●●

H	T	E
●●	●●	●●
		●●
		●●
		●

H	T	E
7	9	
	10	13
8	0	3
5	7	6
<hr/>		
2	2	7

●● ●● ●●
●● ●● ●●
● ●● ●●
●

- Ik schrijf de twee termen en het minteken.
- Ik begin bij de E.
 $3\text{ E} - 6\text{ E}$
Ik heb geen 6 E.
- Ik wissel 1 T voor 10 E.
MAAR ik heb geen T.
Ik moet verder gaan tot bij de H.
Ik wissel 1 H voor 10 T.
Ik streep 8 door bij H en schrijf 7 in de onthoudzone
- Bij de T streep ik 0 door en schrijf 10 in de onthoudzone.
- Ik wissel 1 T voor 10 E.
Ik streep 10 door bij T en schrijf 9.
Bij de E streep ik 3 door en schrijf 13 in de plaats.
- Ik trek de E af. Ik schrijf 7
- Ik trek de T af. Ik schrijf 2.
- Ik trek de H af. Ik schrijf 2.
- Het verschil is 227.

3. Oefeningen

① Bereken het verschil. Wie houdt het meeste over? Kruis aan.



Met de familie op reis!

Bewerkingsteken!

Familie De Wit



H	T	E
5	⁹ 10	16
8	0	6
4	2	7
-	1	7
	7	9

Familie Jonckers



H	T	E
7	⁹ 10	13
8	0	3
6	5	8
-	1	4
	4	5

Wie houdt het meeste over?

Familie De Wit

Familie Jonckers

Familie Fernandez



H	T	E
4	¹⁰ 10	
5	0	9
3	7	7
-	1	3
	3	2

Familie Black



H	T	E
6	⁹ 10	15
7	0	5
5	6	7
-	1	3
	3	8

Wie houdt het meeste over?

Familie Fernandez

Familie Black

② Bereken het verschil.

1) $506 - 328$

H	T	E
4	⁹ 10	16
5	0	6
3	2	8
1	7	8

2) $602 - 427$

H	T	E
5	⁹ 10	12
6	0	2
4	2	7
1	7	5

3) $405 - 276$

H	T	E
3	⁹ 10	15
4	0	5
2	7	6
1	2	9

4) $809 - 625$

H	T	E
7	10	
8	0	9
6	2	5
1	8	4

5) $903 - 367$

H	T	E
8	⁹ 10	13
9	0	3
3	6	7
5	3	6

6) $709 - 135$

H	T	E
6	¹⁰	
7	0	9
1	3	5
5	7	4



4. Hulp

Heb je een vraag of een probleem?

Kijk nog eens naar de 4 B's op de eerste pagina van deze dagtaak.

5. Evaluatie

- Neem oefening 2 op pagina 9 erbij.
- Voer je antwoorden online in.

L3R	L3L
 https://forms.gle/gn9zLhix2sRdaQeF8	 https://forms.gle/97Fjywh7DwWLzoRE9

Mens en maatschappij: Actualiteit

1. Wat doe je in deze taak?

- Ik toon interesse in de actualiteit door goed te luisteren en nadien enkele vragen op te lossen.

2. Hier vind je extra uitleg.



Scan onderstaande QR-code en kijk naar De Week van Karrewiet.



Of ga naar volgende website: <https://www.ketnet.be/kijken/karrewiet/week/2-mei-2020-uitzending-vgt>

3. Oefening

Speel de actuaquiz op Kahoot.

L3R	L3L
 https://kahoot.it/challenge/4d204199-6984-498e-b5e3-121b7fd86006_1588500480166	 https://kahoot.it/challenge/4d204199-6984-498e-b5e3-121b7fd86006_1588500327875