

Vak	Taak	Wat?	Klaar? Ik vond het...
Nederlands	<u>Spelling:</u> Herhalingsdictee	- zie kopies	 
Wiskunde	<u>Meten en meetkunde</u> Herhaling	- zie kopies	 

EXTRA INFORMATIE

NEDERLANDS:

Ga naar onze website voor het dictee: www.deleerboomdrie.jouwweb.be

Dag mevrouw, dag meneer

1. Schrijf de ontbrekende feestregels op.

Begroeten

- ★ Maak je niet druk over handen geven of zoenen: het is niet nodig om dag te zeggen.
- ★ Sta steeds recht als iemand je een hand geeft.
- ★ Zoenen is in de mode! Geef een of twee zoenen. Drie is teveel.

Geschenken

- ★ Je hoeft geen cadeautje mee te brengen. Je aanwezigheid is voldoende.

★ Kom _____ met _____ . Bij een _____ een _____ .

★ Geschenken moet je _____ . Hoe meer papier, hoe _____ !

★ _____ op een _____ .

- ★ Pak je cadeaus pas uit als iedereen weg is.

★ _____ het _____ bij. _____ het een _____ keer _____ .

Eten en drinken

★ Je _____ dat je iets
_____ : neem als _____ een
_____.

★ Je _____ je _____ niet _____
_____ te _____.
_____ wat je niet _____.

★ _____
_____ is _____.

Trappen



★ _____ gaan _____ voor _____
naar _____ ze
meisjes die _____ hun _____
_____, _____ !





Hoorweg	Regelweg	Onthoudweg
nooit	zo	altijd
mooi		meisjes
opnieuw	bord	
	ongezond	hou
handen		
volgende	mag	(geschenk)papier
eerste	leeg	
struikelen		
jongens	lege	
opvangen	beter	
	verzamel	
hoort	tafel	
gebruik	zeker	
hoeft	tonen	
laat	helemaal	
lust	eten	
drink	water	
	beneden	
frisdrank	over	
feestjurk		
	verpakken	
feestje	alle	
geschenkje	lekker	
pakjes	liggen	
hapje	alleen	
	immers	
	kunnen	

Wiskunde: Meten en meetkunde (herhaling)



1. Hoe laat is het? Vul in.

	<p>Ik poets mijn tanden om</p> 	<p>Het is _____ .</p>
	<p>Ik lees wat in mijn boek om:</p> 	<p>Het is _____ .</p>

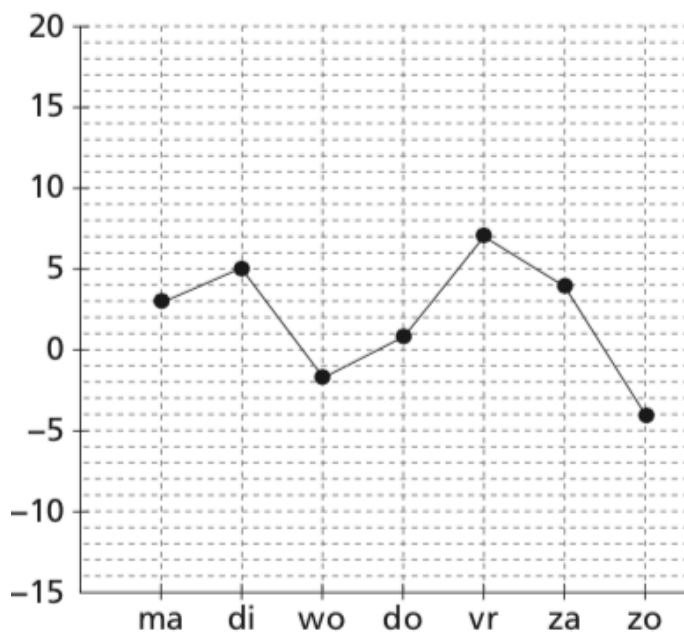
2. Vul in.

<p>Ik zet de taart in de oven om:</p>		
<p>... tijd later</p>	<p>40 min</p>	<p>45 min</p>
<p>De taart is klaar om:</p>		
<p>Het is nu:</p>	<p>_____</p>	<p>_____</p>

3. Vul in of kleur.



4. Lees en vul in.



- Donderdag is het _____ °C.
- De temperatuur is het laagst op _____.

5. Vul de maateenheid in.

kg - g

Mag ik 1 ____ boontjes?

Mag ik 200 ____ kaas?

km - m - dm - cm

Mijn potlood is ongeveer
1 ____ lang.

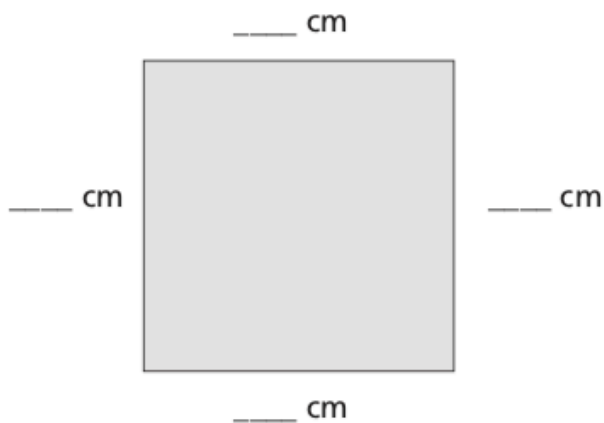
De Spielstraat is meer
dan 1 ____ lang.

l - dl - cl

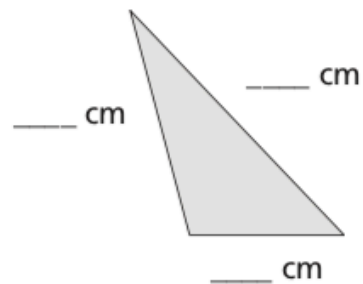
In een glas gaat iets meer
dan 2 ____ fruitsap.

In een fles gaat ongeveer
1 ____ water.

6. Hoeveel is de omtrek? Meet en vul in.

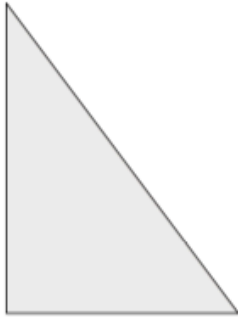


Omtrek = _____

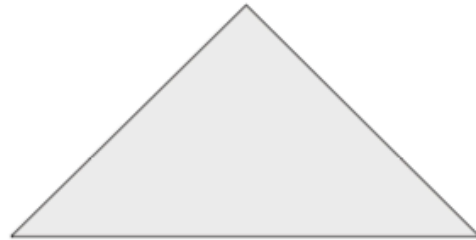


Omtrek = _____

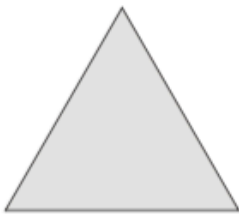
7. Meet en kruis aan.




- 3 even lange zijden
- 2 even lange zijden
- zonder even lange zijden



- 3 scherpe hoeken
- 2 scherpe hoeken en 1 rechte hoek
- 2 scherpe hoeken en 1 stompe hoek



- 3 even lange zijden
- 2 even lange zijden
- zonder even lange zijden



- 3 even lange zijden
- 2 even lange zijden
- zonder even lange zijden

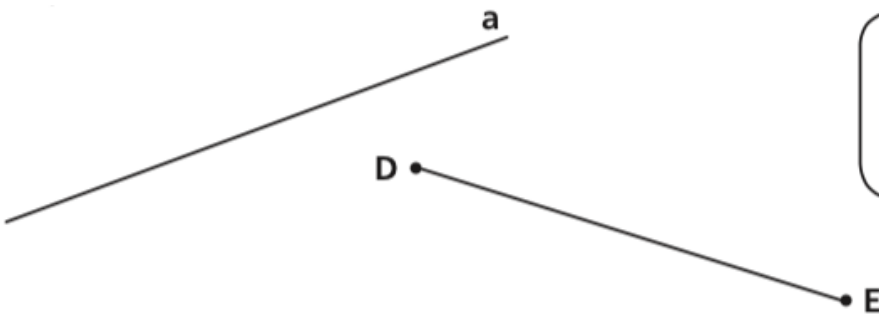
- 3 scherpe hoeken
- 2 scherpe hoeken en 1 rechte hoek
- 2 scherpe hoeken en 1 stompe hoek

8. Rangschik de hoeken van klein naar groot.



hoek . < hoek . < hoek . < hoek .

9. Vul in.



rechte _____

lijnstuk _____